



FIȘĂ DE LUCRU

METODE DE INVESTIGARE A MEDIULUI ÎNCONJURĂTOR


I. Recunoașteți și denumiți următoarele medii de viață



1.....




2.....



3.....



4.....



5.....



6.....











7.....



8.....



II. Asociati imaginile de mai jos cu denumirile urmatoarelor instrumente: termometru, discul Secchi, flotor, mira hidrometrică, pluviometru, higrometru, anemometru, busola.

		
1..... (indică poziția geografică)	2..... (măsoară temperatura)	3..... (măsoară viteza vântului)
		
4..... (măsoară viteza apei)	5..... (măsoară cantitatea de precipitații)	6..... (măsoară umiditatea aerului)
		
7..... (măsoară nivelul apei)		8..... (măsoară transparența apei)